

Шифр участника

002

ЗАДАНИЯ ДЛЯ ОБУЧАЮЩИХСЯ
Время выполнения заданий – 60 минут
Максимальное количество баллов – 100 баллов

Задание 1. Выберите верный ответ из предложенных вариантов. Правильные ответы внесите в таблицу. Максимальный балл за задание – 10 баллов.

1.1. Выберите один верный ответ из предложенных вариантов.

(0,5 балла за каждый правильный ответ, максимальный балл за задание 1.1. – 5 баллов).

1. В какой горид был приглашен князь Рюрик:

- а) Киев б) Новгород в) Изборск г) Ладога

2. К какому веку относится правление Владимира Мономаха:

- а) XII б) XI в) XIII г) IX

3. Битва между монголами и русскими в 1380 г. получила название:

- а) Ледовое побоище б) стояние на Угре

- в) Мамаевое побоище г) битва на Калке

4. Какое событие произошло в 1147 г.?

- а) Битва на р. Калке б) Невская битва

- в) первое упоминание о Москве г) Ледовое побоище

5. Какие события произошли позже других:

- а) Крепление Руси б) Куликовская битва

- в) Невская битва г) призвание варягов

6. Первая русская летопись называлась:

- а) «Повесть временных лет» б) «Слово о полку Игореве»

- в) «Задонщина» г) «Задонщина»

7. Прозвище Невский князь Александр Ярославович получил за:

- а) проведение переноса населения в Повороте б) победу над крестоносцами

- в) победу к хану Орды за ярлык г) разгром шведского отряда

8. Центральным органом управления в Русском государстве XV в. был (и):

- а) приказ б) наместник в) воеводы г) боярская Дума

9. В каком году было введено христианство на Русь:

- а) 886г. б) 882г. в) 988г. г) 980г.

Шифр участника

815

10. К какому веку относится правление Ярослава Мудрого:

- а) XII б) XI в) XIII г) IX

Ответ:

№	1	2	3	4	5	6	7	8	9	10
1.1.	8	8	8	8	8	8	8	8	8	8

1.2. Верно ли утверждение? Ответ оформите в виде таблицы (0,5 балла за каждый правильный ответ, максимальный балл – 5 баллов).

1. Коунг Рюрик и его братья согласились на условия славянских вождей, и вскоре Рюрик прибыл в Ладогу и «сел» в ней «владеть». Синеус устроился на западе в Изборске, а Трувор на севере, в Белоозере.

2. Отцом хана Батия был Чингис-хан.

3. Андрей Рублев был учеником Феофана Грека.

4. При Иване III утверждается главный символ самодержавной России – герб с двуглавым орлом.

5. Иван Калита впервые добился в Орде права собирать дань с русских земель самостоятельно, без баскаков.

6. Церковь Покрова Богородицы на Нерли был построен в память отлого из сыновей Андрея Боголюбского.

7. Полное – это летопись экспедиция князя по сбору даней.

8. Борис и Глеб были убиты в междоусобной борьбе старшим братом Святославом.

9. Главным событием правления Василия II стало свержение монгольского ига.

10. В середине 1340-х гг. страшная беда навалилась на Русь – чума, «черная смерть».

Ответ:

№	ВЕРНО	НЕВЕРНО
1.2.	3, 4, 5, 8, 9	1, 2, 7, 9, 10

Задание 2. Определите и запишите принцип образования каждого логического ряда, найдите и выпишите лишний элемент в каждом ряду. Объясните, почему данный элемент является лишним. Максимальный балл за задание – 3 балла (0,5 балла за логическое пояснение и 0,5 балла за объяснение).

Шифр участника _____

- 2.1. Вятчи, поляне, кривичи, балты, разливичи
2.2. Давыдов, Сtribог, Волдн, Перун, Ярило
2.3. Гончарный круг, плуг, каменный топор, ткацкий станок

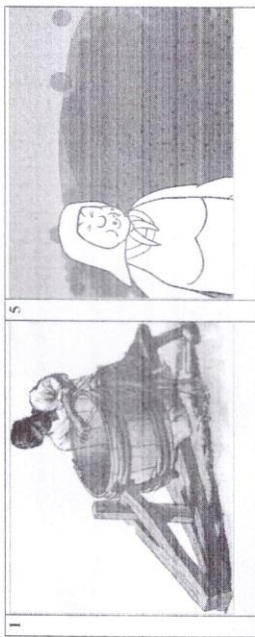
Ответ:

2.1. Лишнее - болты + , потому что не всеочеловеческие религия 1


2.2. Лишнее - Возраст + , потому что не является богемство 1

2.3. Лишнее - Ткацкий станок потому что это привозной или купеческий предмет 1

Задание 3. Рассмотрите изображения на рисунках старинные профессии Древней Руси. Запишите под каждым номером название профессии и зайте её определение (объясните, чем занимался представитель данной профессии). Максимальный балл за задание - 16 баллов. За каждый правильный ответ - 1 балл.



Шифр участника _____



Шифр участника _____

Ответ:

№	Профессия (звание)	Определение
1	Богатырь	мужественный боец
2	Долбоуд	железо, из которого делают мечи
3	Коваль	коваль
4	Метель	собирает монеты
5	Победитель	завоеватель, победитель, человек, который
6	Князь	сидит в бочке, дача
7	Король	народный герой, народный герой
8	Тысяча	тысяча, тысяча

Задание 4. Текст с пропусками. Заполните пропуски в тексте. Ответ оформите в виде перечня элементов под соответствующими номерами. Максимальный балл за задание – 15 баллов. За каждый правильный ответ – 1 балл.

В лето 6576 (1 - год от Рождества Христова) Пришли иноплеменики на Русскую землю (2 - название инородцев) многие. Князь великий киевский (3 - имя) же и братья его и (4 - имя) и младший (5 - имя) вышли против них на реку (6 - название). И с наступлением ночи они пошли друг на друга. За грехи наши напустил Бог на нас поганых, и бежали русские князья. Когда князь киевский с сыном бежали в (7 - город), а брат в (8 - город). Люди, участвовавшие в походе, прибежали в город и собрали (9 - термин власти) на торгу, и послали к князю, сказали ему: "Вот, поганые рассилились по всей земле, дай нам, князь, (10 - вид снаряжения) и коней, мы еще побьемся с ними". Князь же этого не послушал. И люди пошли в торгу и остановились около двора Брячислава и сказали: "Пойдем освободим дружину свою из (11 - место заключения)". И люди закричали, и освободили дружину и сына князя полоцкого (12 - имя). Двор же княжеский разграбили. [захватили] бесчисленное множество золота и серебра... Князь же киевский бежал в (13 - государство). В лето 6577 (14 - год от Рождества Христова). Пошел князь киевский со своим родственником, князем (15 - имя) вернуть свой стол.

Шифр участника _____

Ответ:

1	1068	9	Великий
2	Молния	10	Орден
3	Молния	11	Тысяча
4	Святитель	12	Василий
5	Василий	13	Молния
6	Ангел	14	1069
7	Великий	15	Богослов
8	Черный		

Задание 5. Установите соответствие между деятелями отечественной и всемирной истории и событиями, участниками или свидетелями которого они были. Максимальный балл за задание – 5 баллов. За каждый правильный ответ – 1 балл.

Русская история	Всемирная история
1. Рюрик	А. Норманское завоевание Англии
2. Ольга	Б. Разделение христианской церкви на Восточную (православную) и Западную (католическую)
3. Ярослав Мудрый	В. Первый крестовый поход
4. Изяслав Ярославич	Г. Распад империи франков
5. Святослав	Д. Образование Священной Римской империи

Ответ:

1	2	3	4	5
Г	В	Б	А	В

Задание 6. Внимательно рассмотрите карту и выполните предложенные задания. Максимальный балл за задание – 12 баллов.

1. Назовите государство, территория которого обозначена на схеме цифрой «1» (2 балла).
2. Укажите название войны, события которой отображены на территории государства, обозначенного на схеме цифрой «2». Укажите годы этой войны (4 балла).
3. Назовите государство, территория которого обозначена на схеме цифрой «3» (2 балла).

Шифр участника _____

6.4. Назовите национальную геронимо государства, обозначенного на схеме цифрой «2», деятельность которой связана с событиями, обозначенными на карте (2 балла).

6.5. Укажите, какой известный процесс происходил в тот же период, когда происходила война, событиям которой посвящена схема, в течение 69 лет на территории области, обозначенной на схеме цифрой «4» (2 балла).

Ответ:

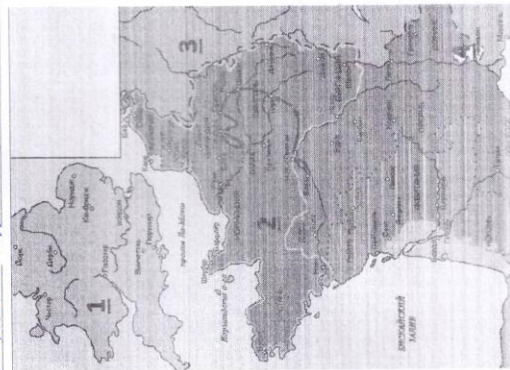
6.1. Англия

6.2. Бюргундская война (1337-1453 гг.)

6.3. Реконкиста

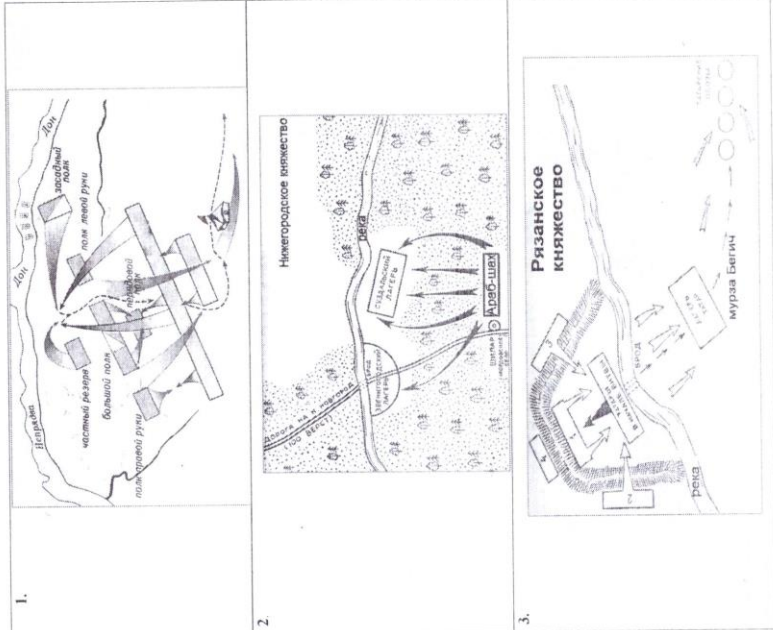
6.4. Мача-Бара

6.5. Авианосная война



Шифр участника _____

Задание 7. Рассмотрите схемы представленные ниже принадлежащие к одной исторической эпохе и ответьте на вопросы. Максимальный балл за задание – 12 баллов.



Шифр участника _____

- 7.1. Определите исторические события, показанные на каждой из представленных схем 1-3 (3 балла).
- 7.2. Напишите дату каждого из них (3 балла).
- 7.3. Назовите государство, с войсками которого сражались русские воины в указанных битвах (1 балл).
- 7.4. Укажите не менее трех участников с русской стороны события, обозначенного на схеме под № 1 (3 балла).
- 7.5. Перечислите не менее двух литературных произведений, посвященных историческому событию, отраженному на схеме под № 1 (2 балла).

Ответ:


№	1 схема	2 схема	3 схема
7.1.	Куликовская битва	Битва на реке Пяна	Сражение в Восток
7.2.	1390 г.	1372 г.	1382 г.
7.3.	Золотая орда		
7.4.	Александр Дюма, Пушкин, Александр Блок		
7.5.	"Слово о полку Игореве", "Кавказская пленница"		

Задание 8. Посмотрите на архитектурные сооружения и укажите: 1) название архитектурных сооружений (1 балл); 2) время их создания (с точностью до половины столетия) (1 балл); 3) имя князя, при котором они были построены (1 балл); 4) место их расположения (1 балл). Максимальный балл за задание – 16 баллов. За каждый правильный ответ – 4 балла.

Ответ:

№	Название	Время создания	Имя князя	Место
1	Золотые ворота	XII в.	Андрей Боголюбский	Владимир
2	Владимирский собор	XIII в.	Владимир Боголюбский	Владимир
3	Спасо-Евфимьевский собор	XIV в.	Иван Калита	Москва
4	Спасо-Евфимьевский собор	XIV в.	Иван Калита	Москва

Шифр участника _____



Задание 9. Используя все приведенные слова и словосочетания, составьте определения исторических понятий. Назовите эти понятия. Слова и словосочетания не могут использоваться дважды. Вы можете добавлять предлоги, изменять слова по падежам и пр. Максимальный балл за задание – 3 балла. За каждый правильный ответ – 1 балл (в 9.1-9.2. определение-понятие).


- 9.1. Глава управления, Древний, выборный, в городской, Новгород.
- 9.2. Высокий хан, в ордынских, покоренные, ранг, земли, представитель, чиновник.
- 9.3. Напишите имя одного из исторических деятелей европейской истории – современника Государя всея Руси Ивана III (1 балл).

Шифр участника _____

Ответ:

- 9.1. Понятие поселение 1
Определение собранный или временно сформировавшийся в древнем мире 1
9.2. Понятие Босния
Определение югославский христианский восточного рита, представлявший собой
9.3. Григорий VII Пап 1
Определение папа римский, глава католической церкви в XI-XII вв.

Задание 10. Посмотрите на изображения и заполните таблицу. Максимальный балл
за задание – 8 баллов. За каждый правильный ответ – 1 балл.



	1 изображение	2 изображение
Кому посвящен памятник?	Михаил Анисимович или Андрей <u>1</u>	Михаил Анисимович или Андрей <u>1</u>
Чем знаменит этот человек?	художник, скульптор родился во всей России	художник, скульптор родился во всей России
Как он связан с историей города Омска?	Он <u>маленький</u> родился <u>1</u>	Николай <u>маленький</u> родился <u>1</u>
Какие объекты в городе Омске являются памятником этому человеку?	Омский музей <u>маленький</u> иногда <u>маленький</u> <u>1</u>	Омский музей <u>маленький</u> иногда <u>маленький</u> <u>1</u>